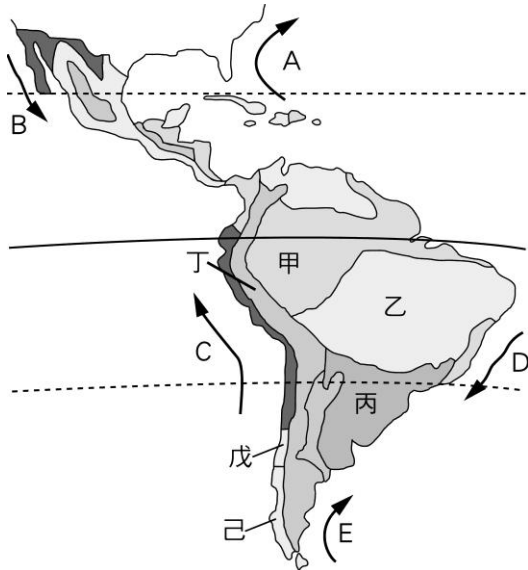


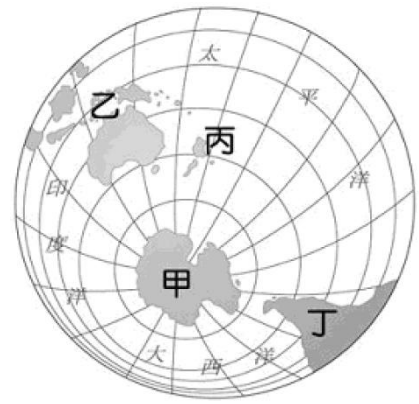
單一選擇題 (每題 5 分, 共 100 分)

- () 歐洲的人口分布較其他洲平均, 其可能的原因為何? (A)火山眾多、土壤肥沃 (B)緯度較高、傳染病少 (C)高溫多雨、農業發達 (D)氣候溼潤、平原廣大。
- () 法國因優越位置而有得天獨厚的氣候, 大部分地區冬無嚴寒, 夏無酷暑, 年溫差小, 屬終年有雨的溫帶海洋性氣候。請問: 法國的降水量主要受到哪個風向的影響? (A)東風 (B)西風 (C)南風 (D)北風。
- () 阿爾卑斯山是歐洲最高大的山脈, 號稱「歐洲屋脊」, 此山間有許多谷地, 為南北向的「天然孔道」, 請問這些「天然孔道」是指什麼? (A)河蝕作用的峽谷 (B)冰蝕作用形成的 U 型谷。(C)溶蝕作用的岩溝 (D)斷層作用的裂谷
- () 歐洲的經濟發達, 醫療衛生水準相當進步, 人口平均壽命長。上述情況, 會造成當地何種社會現象? (A)人口快速成長 (B)人口素質不佳 (C)人口分布平均 (D)人口老化現象。
- () 歐洲阿爾卑斯山以南的三大半島, 在地形上最大的特色為何? (A)板塊擠壓, 地形崎嶇不平 (B)冰河地形發達 (C)平原為主 (D)為一高原古陸塊。
- () 聯合國的世界幸福報告, 是針對世界各國人民對於社會安全、經濟問題和個人自由等感受, 統計分析而成的資料。2020 年前五名的國家依序是: 芬蘭、丹麥、瑞士、冰島與挪威。此五國家除了瑞士以外, 皆屬於歐洲哪個分區? (A)東歐 (B)北歐 (C)南歐 (D)西歐。
- () 歐洲的氣溫較其他同緯度地區溫暖溼潤。這和下列哪些因素的影響為主? (甲)面積廣大; (乙)火山活動; (丙)西風吹拂; (丁)暖流調節? (A)甲乙 (B)丙丁 (C)甲丁 (D)乙丙。
- () 根據下圖, 甲區的所在位置, 應屬於哪一種氣候類型? (A)夏雨型暖溫帶氣候 (B)熱帶莽原氣候 (C)熱帶雨林氣候 (D)熱帶沙漠氣候。

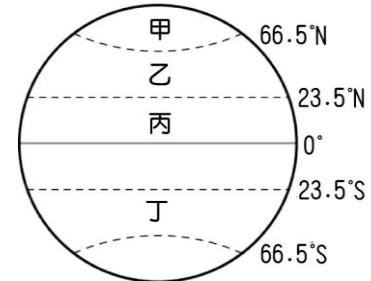


- () 歐洲海岸線曲折綿長, 多天然港灣, 海運發達, 其中北歐的峽灣海岸屬於哪一種地形? (A)火山地形 (B)冰河地形 (C)河川地形 (D)石灰岩地形。
- () 「1914 年 8 月 15 日巴拿馬運河正式通航, 總長 82 公里。該運河連接太平洋和大西洋, 是重要的航運要道, 比繞合恩角縮短了 1 萬 4 千 8 百公里。」引文中的運河通過哪一個地形區? (A)墨西哥高原 (B)落磯山脈 (C)中美地峽 (D)亞馬孫盆地。

- () 下圖中, 哪一地區位於大洋洲的範圍內? (A)甲 (B)乙 (C)丙 (D)丁。



- () 近年來, 俄羅斯的經濟快速發展, 下列何者為其經濟成長的主因? (A)利用便宜的勞力, 進行加工出口業 (B)積極加入歐盟 (C)恢復計畫經濟 (D)大量出口能源, 賺取外匯。
- () 全球暖化已造成北極熊等動物的生存危機, 這種現象主要與下列何者的增加關係最大? (A)溫室氣體 (B)高壓氣流 (C)寒冷氣流 (D)暖溼氣團。
- () 極光為地球上相當特殊的自然景觀, 這種特殊的景觀最常出現在右圖中哪一個地區?



- () 龍捲風是美國中南部平原地區常見的天氣災害, 主要發生於哪一季節? (A)秋末冬初 (B)冬末春初 (C)夏、秋兩季 (D)春、夏之交。
- () 美國一戶農家的農場面積平均約為 169 公頃, 大約是臺灣 5、600 所一般國中的大小, 因此為了提升耕作效率, 美國農家幾乎都會採取下列何種策略? (A)機械化 (B)商業化 (C)精緻化 (D)集約化。
- () 美國境內的溫帶沙漠氣候區, 乾燥少雨且溫差大, 對當地發展的限制極大。該氣候區主要的成因為下列何者? (A)阿拉斯加暖流影響 (B)氣候垂直變化 (C)副熱帶高氣壓籠罩 (D)位於背西風坡。
- () 澳洲境內各地因降水的多寡, 形成許多不同的氣候類型。精華區的降水量較多, 主要受到下列何者的影響? (A)東北季風 (B)東南信風 (C)西北信風 (D)東北信風。
- () 紐西蘭境內的北島人口較多, 為該國精華區, 主要都市及首都皆位於此。北島有利人口分布的主要條件為何? (A)位西風帶 (B)礦產豐富 (C)氣候較溫暖 (D)地勢平坦。
- () 中南美洲又稱「拉丁美洲」, 與該地曾受哪兩國長期殖民有關? (A)英國、法國 (B)法國、德國 (C)西班牙、葡萄牙 (D)荷蘭、比利時。

參考答案

1	2	3	4	5
D	B	B	D	A
6	7	8	9	10
B	B	C	B	C
11	12	13	14	15
C	D	A	A	D
16	17	18	19	20
A	D	B	C	C